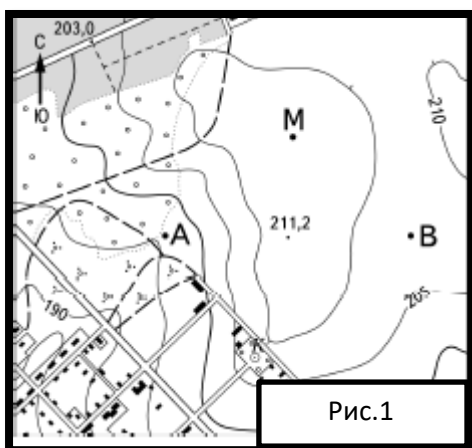
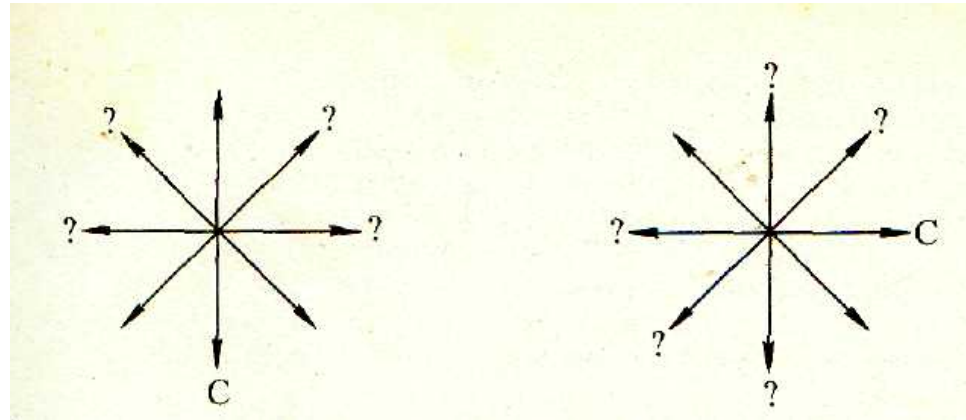
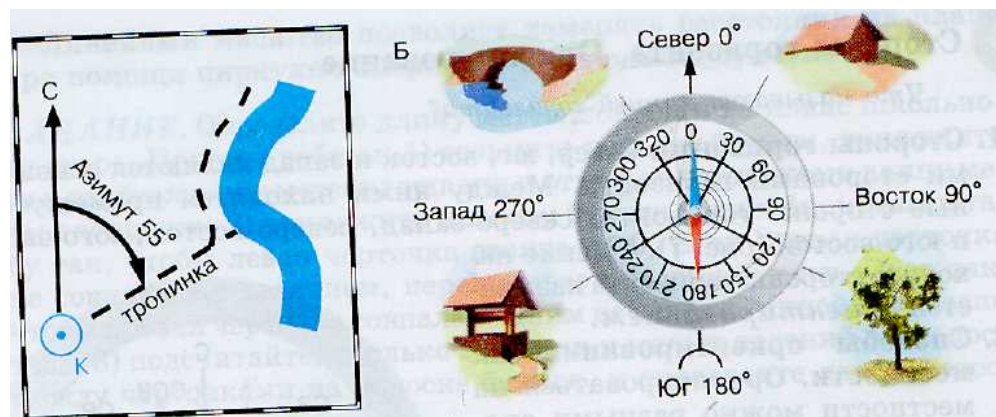


№ 1. Обозначьте стороны горизонта



№ 2.См. на карту (рис.1)

- А) Определите направление от точки А до точки В.
- Б) В каком направлении находится от точки В точка А?
- В) Определите направление от точки М до точки В.
- Г) В каком направлении находится от точки В точка М?
- Д) Определите направление от точки М до вершины 211,2



№ 3. Иногда надо определить точное направление на предмет!(Азимут-?)

- А) Определите, чему равен азимут: А) на северо- восток; Б) на северо- запад; В) на юго- запад; Г) на юго- восток.
- Б) Определите азимут на дом, на дерево, на колодец, на мост (какими топографическими знаками они обозначаются?)

- В) (по рис.1) Чему равен азимут от точки А до точки В?
- Г) (по рис.1) Чему равен азимут от точки В до точки А?
- Д) (по рис.1) Чему равен азимут от точки М до вершины с высотой 211,2?

№ 4 Самостоятельно! См. рис.2 задания А-Г

- А) Чему равен азимут от точки А до точки В?
 - Б) Чему равен азимут от точки В до колодца?
 - В) Чему равен азимут от колодца до дома лесника?
 - Г) Чему равен азимут от дома лесника до колодца?
 - Д) Группа туристов двигалась сначала по дороге с азимутом 90 градусов, а затем дорога свернула вправо на 45 градусов. В направлении какой стороны горизонта пошли туристы после поворота дороги?
- а) СВ; б) В; в) ЮВ; г) СЗ.

